

Описание контрольных измерительных материалов для проведения в 2024 году проверочной работы по ФИЗИКЕ

7 класс

1. Назначение проверочной работы

Назначение работы по учебному предмету «физика» – оценить качество общеобразовательной подготовки обучающихся 7 классов в соответствии с требованиями ФГОС. КИМ позволяют осуществить диагностику достижения предметных и метапредметных результатов, в том числе овладение межпредметными понятиями и способность использования универсальных учебных действий (УУД) в учебной, познавательной и социальной практике.

2. Документы, определяющие содержание проверочной работы

Содержание и структура проверочной работы определяются на основе Федерального государственного стандарта основного общего образования (приказ Минпросвещения России от 31.05.2021 № 287) и федеральной образовательной программы основного общего образования (приказ Минпросвещения России от 18.05.2023 N 370 Об утверждении федеральной образовательной программы основного общего образования) и содержания учебников, включенных в Федеральный перечень.

3. Подходы к отбору содержания, разработке структуры проверочной работы

Работы основаны на системно- деятельностном, компетентностном и уровневом подходах в обучении.

Наряду с предметными результатами обучения учащихся основной школы оцениваются также метапредметные результаты, в том числе уровень сформированности универсальных учебных познавательных, коммуникативных и регулятивных действий (УУД) и овладения межпредметными понятиями.

Контрольные измерительные материалы (*далее – КИМ*) ВПР направлены на проверку сформированности у обучающихся следующих результатов освоения естественнонаучных учебных предметов:

- формирование целостной научной картины мира;
- овладение научным подходом к решению различных задач;
- овладение умениями: формулировать гипотезы; конструировать; проводить наблюдения, описание, измерение, эксперименты; оценивать полученные результаты;
- овладение умением сопоставлять эмпирические и теоретические знания с объективными реалиями окружающего мира;
- воспитание ответственного и бережного отношения к окружающей среде;
- формирование умений безопасного и эффективного использования лабораторного оборудования, проведения точных измерений и адекватной оценки полученных результатов, представления научно обоснованных аргументов своих действий, основанных на межпредметном анализе учебных задач.

Тексты заданий в КИМ соответствуют формулировкам, принятым в учебниках, включенных в Федеральный перечень учебников, допущенных Министерством просвещения Российской Федерации к использованию при реализации имеющих государственную аккредитацию образовательных программ основного общего образования.

4. Структура проверочной работы

Вариант проверочной работы включает в себя 11 заданий, которые различаются по содержанию и проверяемым требованиям.

Задания 1, 3–6, 8 и 9 требуют краткого ответа. Задания 2, 7, 10, 11 предполагают развернутую запись решения и ответа.

5. Кодификаторы проверяемых элементов содержания и требований к уровню подготовки обучающихся

В табл. 1 приведен кодификатор проверяемых элементов содержания.

Таблица 1

Коды раздела, темы	Код проверяемого элемента	Проверяемые элементы содержания
1	Физические явления и методы их изучения	
	1.1	Что изучает физика. Физические явления природы.
	1.2	Физические величины, единицы физических величин.
	1.3	Наблюдение и эксперимент. Проведение наблюдений на примере нагревания и кипения воды.
	1.4	Прямые измерения физических величин. Физические приборы.
	1.5	Точность измерений. Запись результата прямого измерения с учетом абсолютной погрешности. Измерение расстояний.
	1.6	Среднее значение по результатам нескольких случайных измерений. Измерение малых величин методом рядов.
	1.7	Выбор способа измерения физической величины на примере измерения массы тела: весы рычажные, пружинные и электронные. Измерение объема жидкости, температуры, времени.
	1.8	Связи между физическими величинами. Плотность вещества. $\rho = m/V$ Косвенные измерения на примере измерения плотности жидкости и твердых тел.
	1.9	Исследование зависимости одной физической величины от другой на примере зависимости пути равномерно движущегося тела от времени движения тела. $x(t) = v_x \cdot t$ Представление данных исследования в таблице и на графике с учетом заданной абсолютной погрешности измерений.
	1.10	Гипотеза. Превращение гипотезы в научную теорию на примере становления молекулярно-кинетической теории строения вещества.
	1.11	Физические законы, границы их применимости. Предсказание результатов опыта до его проведения на основе теоретической модели.
	1.12	Физика и окружающий нас мир: мегамир, макромир, микромир. Физика и техника.
1.13	<i>Практические работы:</i> определение цены деления шкалы измерительного прибора; измерение линейных размеров твердого тела правильной формы, размеров классной комнаты при помощи ультразвукового датчика расстояний, дальности полета тела, брошенного горизонтально, размеров малых тел; массы тел различными способами, объема	

	жидкости и твердого тела; времени; температуры при помощи жидкостного термометра и датчика температуры; плотности вещества жидкости и твердого тела; исследование зависимости пути равномерно движущегося тела от времени движения тела
1.14	<i>Технические устройства:</i> весы, термометр, мерный цилиндр, секундомер

2	МЕХАНИЧЕСКИЕ ЯВЛЕНИЯ	
2.1	Взаимодействие тел	
2.1.1	Виды механического движения. Относительность механического движения. Тело отсчета. Траектория. Путь	
2.1.2	Равномерное и неравномерное движение. Средняя скорость. Формула для вычисления средней скорости: $v = S/t$	
2.1.3	Явление инерции. Сила как мера взаимодействия	
2.1.4	Деформация твердых тел. Виды деформации. Сила упругости. Закон упругой деформации (закон Гука): $F = k\Delta l$	
2.1.5	Измерение силы. Сложение сил.	
2.1.6	Сила тяжести. Формула для вычисления силы тяжести вблизи поверхности Земли: $F = mg$ Вес тела.	
2.1.7	Виды трения. Трение покоя и трение скольжения. Формула для вычисления модуля силы трения скольжения: $F_{тр} = \mu \cdot N$	
2.1.8	<i>Практические работы:</i> наблюдение зависимости силы трения скольжения от силы нормального давления, качества обработки поверхностей тел и независимости силы трения от площади соприкосновения тел; измерение силы трения скольжения; исследование зависимости силы упругости от удлинения пружины	
2.1.9	<i>Физические явления в природе:</i> скорости движения в природе, сила трения в природе и технике	
2.1.10	<i>Технические устройства:</i> динамометр, подшипники	
2.1.11	<i>История науки:</i> закон упругой деформации Р. Гука, опыты Г.Галилея по изучению явления инерции, Ш.Кулона по изучению трения	
2.2	Давление твердых тел, жидкостей и газов. Плавание тел	
2.2.1	Давление твердого тела: $p = F/S$	
2.2.2	Давление жидкостей и газов. Закон Паскаля.	
2.2.3	Давление в жидкости и газе. Гидростатическое давление внутри жидкости: $p = \rho gh$. Парадокс Паскаля	
2.2.4	Атмосферное давление. Измерение атмосферного давления	
2.2.5	Закон Архимеда. Формула для определения выталкивающей силы, действующей на тело, погруженное в жидкость или газ: $F_A = \rho g V$	
2.2.6	Условие плавания тела. Плавание судов и воздухоплавание	

	2.2.7	<i>Практические работы:</i> Измерение давления воздуха в баллоне шприца. Исследования зависимости выталкивающей силы от объёма погруженной части от плотности жидкости, её независимости от плотности тела, от глубины, на которую погружено тело, условий плавания тел
	2.2.8	<i>Физические явления в природе:</i> влияние атмосферного давления на живой организм, водяные ключи и устройство артезианских скважин, плавание рыб
	2.2.9	<i>Технические устройства:</i> сообщающиеся сосуды, устройство водопровода, гидравлический пресс, манометр, барометр, высотомер, поршневой насос, ареометр
	2.2.10	<i>История науки:</i> закон Паскаля передачи давления в жидкостях и газах, исследования условия равновесия рычага и закона плавания тел, проведенные Архимедом, опыты Ш.Кулона по изучению трения, Е.Торричелли, Б.Паскаля, О.фон Герике по изучению атмосферного давления; опыты Монгольфье по воздухоплаванию
2.3		Работа, мощность, энергия
	2.3.1	Механическая работа:
	2.3.2	Механическая мощность: $N = \frac{A}{t}$
	2.3.3	Простые механизмы. Правило равновесия рычага.
	2.3.4	Применение правила равновесия рычага к блоку.
	2.3.5	«Золотое правило» механики. Коэффициент полезного действия механизмов.
	2.3.6	Потенциальная энергия тела, поднятого над Землей: $E_p = mgh$
	2.3.7	Кинетическая энергия: $E_k = \frac{mv^2}{2}$
	2.3.8	Полная механическая энергия: $E = E_k + E_p$ Законы изменения и сохранения механической энергии
	2.3.9	<i>Практические работы:</i> измерение работы силы трения на заданном пути, коэффициента полезного действия системы блоков; исследование условий равновесия рычага и блоков
	2.3.10	<i>Физические явления в природе:</i> энергия рек и ветра и её использование в технике; мощности живых «двигателей»
2.3.11	<i>Технические устройства:</i> рычаг, подвижный и неподвижный блок, простые механизмы в быту, спортивные тренажеры	

В табл. 2 приведен кодификатор проверяемых результатов обучения.

Таблица 2

Мета-предметный результат	Код проверяемого требования	Проверяемые предметные результаты обучения
1		Умение определять понятия, создавать обобщения, устанавливать аналогии, классифицировать, самостоятельно выбирать основания и критерии для

	классификации, устанавливать причинно-следственные связи, строить логическое рассуждение, умозаключение (индуктивное, дедуктивное и по аналогии) и делать выводы
1.1	Различать изученные физические явления (равномерное и неравномерное движение, инерция, взаимодействие тел, равновесие твердых тел, имеющих закрепленную ось вращения, передача
	давления твердыми телами, жидкостями и газами, атмосферное давление, плавание тел) по описанию их характерных свойств и на основе опытов, демонстрирующих данное физическое явление.
1.2	Распознавать проявление изученных физических явлений (см. п.1) в окружающем мире, выделяя их существенные свойства/признаки.
1.3	Описывать изученные свойства тел и физические явления, используя физические величины: путь, скорость, масса и объем тела, плотность вещества, сила, давление, кинетическая энергия, потенциальная энергия, механическая работа, механическая мощность, КПД простого механизма, давление; при описании правильно трактовать физический смысл используемых величин, их обозначения и единицы измерения, находить формулы, связывающие данную физическую величину с другими величинами.
1.4	Характеризовать свойства тел, физические явления и процессы, используя физические законы: закон Гука, закон Архимеда, закон сохранения энергии; при этом давать словесную формулировку закона и записывать его математическое выражение.
1.5	Объяснять физические процессы и свойства тел: выявлять причинно-следственные связи, строить объяснение из 1-2 логических шагов с опорой на 1-2 изученных свойства физических явлений, физических закона или закономерности.
1.6	Распознавать проблемы, которые можно решить при помощи физических методов; в описании исследования выделять проверяемое предположение, находить ошибки в ходе опыта, делать выводы по его результатам.
1.7	Проводить опыты по наблюдению физических явлений или физических свойств тел: формулировать проверяемые предположения, собирать установку из предложенного оборудования и формулировать выводы.
1.8	Проводить прямые измерения физических величин (расстояние, время, масса тела, объём, сила, температура): записывать показания приборов с учетом заданной абсолютной погрешности измерений.
1.9	Проводить исследование зависимостей физических величин с использованием прямых измерений: планировать исследование, собирать установку, следуя предложенному плану, фиксировать результаты полученной зависимости физических величин в виде предложенных таблиц и графиков, делать выводы по результатам исследования.
1.10	Проводить косвенные измерения физических величин, следуя предложенной инструкции: при выполнении измерений собирать экспериментальную установку и вычислять значение величины.
1.11	Приводить примеры практического использования физических знаний в повседневной жизни для обеспечения безопасности при обращении с приборами и техническими устройствами, сохранения здоровья и соблюдения норм экологического поведения в окружающей среде.

	1.12	Приводить примеры вклада российских (Д.И. Менделеев, М.В. Ломоносов, Н.П. Петров и др.) и зарубежных (Г. Галилей, Р. Гук, Е. Торричелли, Б. Паскаль, Архимед и др.) ученых-физиков в развитие науки, объяснение процессов окружающего мира, в развитие техники и технологий.
2	Умение создавать, применять и преобразовывать знаки и символы, модели и схемы для решения учебных и познавательных задач	
	2.1	Решать расчетные задачи в 1-2 действия по одной из тем курса физики, используя законы и формулы, связывающие физические величины: на основе анализа условия задачи записывать краткое условие, подставлять физические величины в формулы и проводить расчеты.
	2.2	Обосновывать выбор изученных физических моделей (материальная точка).
	2.3	Указывать принципы действия приборов и технических устройств.
	2.4	Распознавать простые технические устройств и измерительные приборы по схемам и схематичным рисункам.
3	Смысловое чтение	
	3.1	Использовать при выполнении учебных заданий научно-популярную литературу физического содержания, справочные материалы, ресурсы сети Интернет: владеть приемами конспектирования текста, преобразования информации из одной знаковой системы в другую.
	3.2	Создавать собственные письменные и устные краткие сообщения на основе 2-3 источников информации, грамотно использовать изученный понятийный аппарат курса физики, сопровождать выступление презентацией.
4	Умение организовывать учебное сотрудничество и совместную деятельность с учителем и сверстниками; работать индивидуально и в группе	
	4.1	При работе в группе сверстников распределять обязанности в соответствии с поставленными задачами, следить за выполнением плана действий, адекватно оценивать собственный вклад в деятельность группы.
5	Умение осознанно использовать речевые средства в соответствии с задачей коммуникации для выражения своих чувств, мыслей и потребностей	
	5.1	При работе в группе сверстников выстраивать коммуникативное взаимодействие, учитывая мнение окружающих.
6	Формирование и развитие компетентности в области использования информационно-коммуникационных технологий	
	6.1	Осуществлять отбор источников информации в сети Интернет в соответствии с заданным поисковым запросом, на основе имеющихся знаний выделять информацию, которая является противоречивой или может быть недостоверной.
7	Определять способы действий в рамках предложенных условий и требований, корректировать свои действия в соответствии с изменяющейся ситуацией	
	7.1	Соблюдать правила безопасного труда при работе с учебным и лабораторным оборудованием.

6. Распределение заданий проверочной работы по позициям кодификаторов

Распределение заданий по позициям кодификаторов приведено в табл. 3.

Таблица 3

№	Проверяемые требования (умения)	Блоки ПООП ООО выпускник научится / <i>получит возможность научиться</i>	Код КЭС/КТ	Уровень сложности	Максимальный балл за выполнение задания	Примерное время выполнения задания обучающимся (в минутах)
1	1.8	проводить прямые измерения физических величин: время, расстояние, масса тела, объем, сила, температура, атмосферное давление, и использовать простейшие методы оценки погрешностей измерений.	1.2, 1.4, 1.5, 1.7, 1.13, 1.14	Б	1	2
2	1.2, 1.3, 1.4, 1.5	распознавать механические явления и объяснять на основе имеющихся знаний основные свойства или условия протекания этих явлений: равномерное и неравномерное движение, инерция, взаимодействие тел, передача давления твердыми телами, жидкостями и газами, атмосферное давление, плавание тел; анализировать ситуации практико-ориентированного характера, узнавать в них проявление изученных физических явлений или закономерностей и применять имеющиеся знания для их объяснения;	1.1, 2.1.2, 2.1.3, 2.2.1, 2.2.2, 2.2.4	Б	2	3
3	1.4, 2.1	решать задачи, используя физические законы (закон Гука, закон Архимеда) и формулы, связывающие физические величины (путь, скорость, масса тела, плотность вещества, сила, давление, кинетическая энергия, потенциальная энергия, сила трения скольжения, коэффициент трения): на основе анализа условия задачи выделять физические величины, законы и формулы, необходимые для ее решения, проводить расчеты.	1.8 , 2.1.2, 2.1.4, 2.1.7, 2.2.1, 2.2.5, 2.3.6, 2.3.7	Б	1	2
4	1.3, 2.1	решать задачи, используя формулы, связывающие физические величины (путь, скорость тела): на основе анализа условия задачи записывать краткое условие, выделять физические величины, законы и формулы, необходимые для ее решения, проводить расчеты.	1.9, 2.1.1, 2.1.2	Б	1	2
5	1.4, 1.6, 1.7, 1.9, 2.1	интерпретировать результаты наблюдений и опытов;	1.7, 1.13, 2.1.4, 2.3.9, 2.3.1	Б	1	2

6	1.2, 1.3, 2.1	анализировать ситуации практико-ориентированного характера, узнавать в них проявление изученных физических явлений или закономерностей и применять имеющиеся знания для их объяснения;	1.8, 2.1.2, 2.1.5, 2.1.6, 2.2.1, 2.3.2	П	1	2
7	1.5, 3.1	использовать при выполнении учебных задач справочные материалы; делать выводы по результатам исследования;	1.8, 1.9, 1.11, 2.1.2, 2.1.4, 2.1.5, 2.1.7, 2.1.8	П	2	4
8	1.4, 2.1	решать задачи, используя физические законы (закон Паскаля, закон Архимеда) и формулы, связывающие физические величины (масса тела, плотность вещества, сила, давление): на основе анализа условия задачи выделять физические величины, законы и формулы, необходимые для ее решения, проводить расчеты.	1.8, 2.2.1 – 2.2.7	П	1	4
9	1.3, 2.1	решать задачи, используя формулы, связывающие физические величины (путь, скорость, масса тела, плотность вещества, сила, давление): на основе анализа условия задачи, выделять физические величины и формулы, необходимые для ее решения, проводить расчеты.	1.8, 2.1.2, 2.2.1	П	2	6
10	1.3, 2.1, 2.2	решать задачи, используя физические законы (закон сохранения энергии, закон Гука, закон Паскаля, закон Архимеда) и формулы, связывающие физические величины (путь, скорость, масса тела, плотность вещества, сила, давление, кинетическая энергия, потенциальная энергия, механическая работа, механическая мощность, КПД простого механизма, сила трения скольжения, коэффициент трения): на основе анализа условия задачи записывать краткое условие, выделять физические величины, законы и формулы, необходимые для ее решения, проводить расчеты и оценивать реальность полученного значения физической величины.	2.2.2- 2.2.5, 2.3.1- 2.3.8	В	3	8
11	1.7, 1.9, 1.10, 2.3, 3.1	анализировать отдельные этапы проведения исследований и интерпретировать результаты наблюдений и опытов; решать задачи, используя физические законы (закон сохранения энергии, закон Гука, закон Паскаля, закон Архимеда) и формулы, связывающие физические величины (путь, скорость, масса тела, плотность вещества, сила, давление, кинетическая энергия, потенциальная энергия, механическая работа, механическая мощность, КПД простого механизма, сила трения скольжения, коэффициент трения): на основе анализа	1.3 - 1.6, 1.8, 1.13, 2.1.8	В	3	10

		условия задачи записывать краткое условие, выделять физические величины, законы и формулы, необходимые для ее решения, проводить расчеты и оценивать реальность полученного значения физической величины.				
<p>Всего 11 заданий, из них по уровню сложности Б (базовый) – 5; П (повышенный) – 4; В (высокий) – 2. Время выполнения проверочной работы – 45 минут. Максимальный первичный балл – 18.</p>						

7. Распределение заданий проверочной работы по уровню сложности

Задания 1, 2, 3, 4, 5 проверочной работы относятся к базовому уровню сложности.

Задания 6, 7, 8, 9 проверочной работы относятся к повышенному уровню сложности.

Задания 10, 11 проверочной работы относятся к высокому уровню сложности.

8. Типы заданий, сценарии выполнения заданий

В задании 1 проверяется осознание учеником роли эксперимента в физике, понимание способов измерения изученных физических величин, понимание неизбежности погрешностей при проведении измерений и умение оценивать эти погрешности, умение определить значение физической величины по показаниям приборов, а также цену деления прибора. В качестве ответа необходимо привести численный результат.

В задании 2 проверяется сформированность у обучающихся базовых представлений о физической сущности явлений, наблюдаемых в природе и в повседневной жизни (в быту). Обучающимся необходимо привести развернутый ответ на вопрос: назвать явление и качественно объяснить его суть, либо записать формулу и назвать входящие в нее величины.

В заданиях 3-6 проверяются базовые умения школьника: использовать законы физики в различных условиях, сопоставлять экспериментальные данные и теоретические сведения, применять знания из соответствующих разделов физики.

В задании 3 проверяется умение использовать закон/понятие в конкретных условиях. Обучающимся необходимо решить простую задачу (один логический шаг или одно действие). В качестве ответа необходимо привести численный результат.

Задание 4 – задача с графиком. Проверяются умения читать графики, извлекать из них информацию и делать на ее основе выводы. В качестве ответа необходимо привести численный результат.

Задание 5 проверяет умение интерпретировать результаты физического эксперимента. Проверяются умения делать логические выводы из представленных экспериментальных данных, пользоваться для этого теоретическими сведениями. В качестве ответа необходимо привести численный результат.

Задание 6 – текстовая задача из реальной жизни, проверяющая умение применять в бытовых (жизненных) ситуациях знание физических явлений и объясняющих их количественных закономерностей. В качестве ответа необходимо привести численный результат.

Задание 7 – задача, проверяющая умение работать с экспериментальными данными, представленными в виде таблиц. Проверяется умение сопоставлять экспериментальные данные и теоретические сведения, делать из них выводы, совместно использовать для этого различные физические законы. Необходим краткий текстовый ответ.

Задание 8 – задача по теме «Основы гидростатики». В качестве ответа необходимо привести численный результат.

Задание 9 – задача, проверяющая знание школьниками понятия «средняя величина», умение усреднять различные физические величины, переводить их значения из одних единиц измерения в другие. Задача содержит два вопроса. В качестве

ответа необходимо привести два численных результата.

Задания 10, 11 требуют от обучающихся умения самостоятельно строить модель описанного явления, применять к нему известные законы физики, выполнять анализ исходных данных или полученных результатов.

Задание 10 – комбинированная задача, требующая совместного использования различных физических законов, работы с графиками, построения физической модели, анализа исходных данных или результатов. Задача содержит три вопроса. Требуется развернутое решение.

Задание 11 нацелено на проверку понимания обучающимися базовых принципов обработки экспериментальных данных с учетом погрешностей измерения. Проверяет способность разбираться в нетипичной ситуации. Задача содержит три вопроса. Требуется развернутое решение.

9. Система оценивания выполнения отдельных заданий и проверочной работы в целом

Правильный ответ на каждое из заданий 1, 3-6, 8 оценивается 1 баллом. Полный правильный ответ на задание 9 оценивается 2 баллами. Если в ответе допущена одна ошибка (одно из чисел не записано или записано неправильно), выставляется 1 балл; если оба числа записаны неправильно или не записаны – 0 баллов.

Ответ на каждое из заданий 2, 7, 10, 11 оценивается в соответствии критериями.

Максимальный первичный балл – 18.

Таблица 4

Рекомендации по переводу первичных баллов в отметки по пятибалльной шкале

Отметка по пятибалльной шкале	«2»	«3»	«4»	«5»
Первичные баллы	0–4	5–7	8–10	11–18

10. Время выполнения варианта проверочной работы

На выполнение проверочной работы дается 45 минут.


11. Описание дополнительных материалов и оборудования, необходимых для проведения проверочной работы

При проведении работы может использоваться непрограммируемый калькулятор.

12. Рекомендации по подготовке к работе

Специальная подготовка к проверочной работе не требуется.

- 1 Температура тела здорового человека равна $+36,6\text{ }^{\circ}\text{C}$ – такую температуру называют нормальной. На рисунке изображены три термометра. Чему равна цена деления того термометра, который подойдет для измерения температуры тела с необходимой точностью?



Ответ: _____ $^{\circ}\text{C}$.

- 2 На горизонтальном участке пути разогнавшийся автомобиль может довольно длительное время продолжать своё движение при неработающем двигателе. На каком механическом свойстве тел основан этот свободный ход машины? В чём состоит это свойство?

Ответ: _____

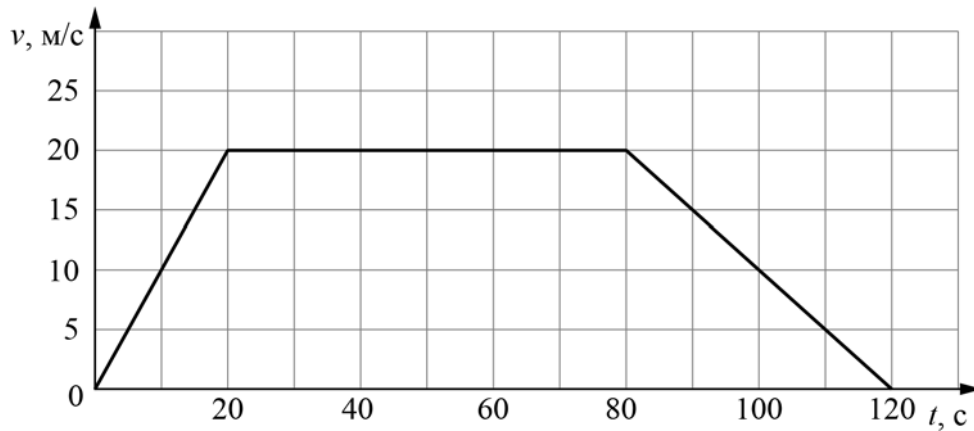
- 3 Петя посмотрел на этикетку, наклеенную на бутылку с подсолнечным маслом, и ему стало интересно, каково значение плотности этого масла. Найдите плотность масла, пользуясь данными с этикетки.



Ответ: _____ $\text{кг}/\text{м}^3$.

4

На рисунке приведён график зависимости скорости электропоезда метро от времени при движении между двумя станциями. Сколько секунд поезд двигался с постоянной скоростью?



Ответ: _____ с.

5

Играя в кондитерский магазин, подружки взвешивали на рычажных весах две шоколадные плитки одинакового размера (без обёрток). Для того, чтобы уравновесить первую плитку шоколада, им понадобились одна гирька массой 50 грамм и две гирьки массами по 20 грамм каждая. Для взвешивания второй плитки им понадобились одна гирька массой 50 грамм, одна массой 15 грамм и одна массой 5 грамм. Подружки сообразили, что один шоколад был пористым, а второй – более плотным. Чему была равна масса плитки пористого шоколада?

Ответ: _____ г

6

Для постройки гаража дачнику не хватило песчано-цементной смеси. Для её изготовления было дополнительно заказано 300 кг песка. Но тележка, в которой можно его перевозить, вмещает только $0,02 \text{ м}^3$. Какое минимальное число раз дачнику придётся загружать эту тележку для того, чтобы перевезти весь песок? Плотность песка при его насыпании в тележку (так называемая насыпная плотность) 1600 кг/м^3 .

Ответ: _____

7

В справочнике физических свойств различных материалов представлена следующая таблица плотностей:

Вещество	Плотность, кг/м ³
Алюминий	2700
Вода	1000
Железо	7800
Кирпич	1600
Мёд	1350
Медь	8900
Никель	8900
Олово	7300
Парафин	900
Пробка	250
Ртуть	13600

Какие из этих веществ будут плавать в воде? Ответ кратко обоснуйте.

Ответ: _____

8

Спортсмены, которые занимаются дайвингом, могут погружаться в воду на глубину более 100 метров. Определите, во сколько раз отличается давление на этой глубине от давления на поверхности воды, если давление, создаваемое десятью метрами водяного столба эквивалентно атмосферному давлению.

Ответ: _____

9

Автомобиль выехал из Москвы в Псков. Сначала автомобиль двигался со скоростью 100 км/ч и водитель планировал, поддерживая всё время такую скорость, доехать до пункта назначения за 6 часов. Потом оказалось, что некоторые участки дороги не скоростные, скорость движения на них ограничена, и поэтому треть всего пути машина была вынуждена ехать со скоростью 50 км/ч (а на скоростных участках она ехала с изначально планировавшейся скоростью).

- 1) По данным задачи определите, каково расстояние между Москвой и Псковом.
- 2) Чему оказалась равна средняя скорость автомобиля при движении из Москвы в Псков?

Ответ: 1) расстояние _____ км; 2) средняя скорость _____ км/ч

10

В лаборатории завода в запаянной стеклянной колбе хранилась ртуть. Перед отправкой ртути в производственный цех завода лаборанту было поручено, не вскрывая колбу, измерить массу ртути. Лаборант определил массу колбы со ртутью (измерение дало результат $m = 8,05$ кг) и внешний объем колбы $V = 1000$ см³. Используя справочные данные, лаборант правильно вычислил массу ртути. Плотность ртути $\rho_p = 13,6$ г/см³, плотность стекла $\rho_c = 2,5$ г/см³.

- 1) Чему равна масса колбы со ртутью, если её выразить в граммах?
- 2) Определите массу ртути в колбе, если ртуть заполняла внутреннее пространство колбы практически полностью.
- 3) Во сколько раз масса ртути больше массы пустой колбы?

Напишите полное решение этой задачи.

Решение:

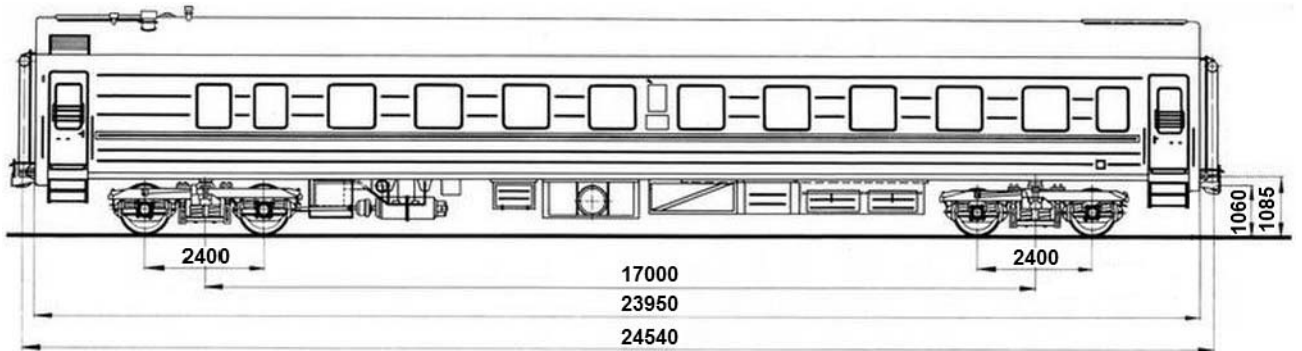
Ответ:

11

Вдоль стоящего на станции пассажирского поезда идёт обходчик. Он резко ударяет молотком по оси каждого колеса и затем на мгновение прикладывает к ней руку. Пассажир Иван Иванович заметил, что вдоль всего состава обходчик проходит за 5 минут, делая при этом 48 ударов. Пользуясь чертежом вагона, оцените:

- 1) сколько вагонов в поезде?
- 2) с какой средней скоростью идёт обходчик?
- 3) чему равен минимальный интервал времени между слышимыми ударами?

Размеры на чертеже вагона приведены в миллиметрах. Напишите полное решение этой задачи.



Решение:

Ответ:

Система оценивания проверочной работы

Правильный ответ на каждое из заданий 1, 3-6, 8 оценивается 1 баллом.

Полный правильный ответ на задание 9 оценивается 2 баллами. Если в ответе допущена одна ошибка (одно из чисел не записано или записано неправильно), выставляется 1 балл; если оба числа записаны неправильно или не записаны – 0 баллов.

Номер задания	Правильный ответ
1	0,1
3	920
4	60
5	70
6	10
8	11
9	600; 75

Решения и указания к оцениванию ответов на задания 2, 7, 10 и 11

2

На горизонтальном участке пути разогнавшийся автомобиль может довольно длительное время продолжать своё движение при неработающем двигателе. На каком механическом свойстве тел основан этот свободный ход машины? В чём состоит это свойство?

Решение	
На свойстве инертности. Оно заключается в стремлении тел сохранять состояние своего покоя или равномерного движения.	
Указания к оцениванию	Баллы
Приведен полностью правильный ответ на оба вопроса, содержащий правильное название свойства и его правильное описание.	2
В решении имеется один или несколько из следующих недостатков. Приведено только правильное название свойства без его описания. ИЛИ Приведено только правильное описание свойства без указания его названия. И (ИЛИ) В решении дан ответ на оба вопроса, но имеется неточность в названии свойства или в его описании.	1
Все случаи решения, которые не соответствуют вышеуказанным критериям выставления оценок в 1 или 2 балла.	0
<i>Максимальный балл</i>	2

- 7 В справочнике физических свойств различных материалов представлена следующая таблица плотностей:

Вещество	Плотность, кг/м ³
Алюминий	2700
Железо	7800
Кирпич	1600
Мёд	1350
Медь	8900
Никель	8900
Олово	7300
Парафин	900
Пробка	250
Ртуть	13600
Вода	1000

Какие из этих веществ будут плавать в воде? Ответ кратко обоснуйте.

Решение	
Будут плавать парафин и пробка, так как их плотность меньше плотности воды.	
Указания к оцениванию	Баллы
Приведен полностью правильный ответ на вопрос и дано правильное объяснение.	2
В решении имеется один или несколько из следующих недостатков. Приведен только полный правильный ответ на вопрос без объяснения. ИЛИ Приведено правильное объяснение, но правильный ответ на вопрос дан лишь частично. И (ИЛИ) В решении дан полный правильный ответ на вопрос, но в объяснении имеется неточность.	1
Все случаи решения, которые не соответствуют вышеуказанным критериям выставления оценок в 1 или 2 балла.	0
<i>Максимальный балл</i>	2

10

В лаборатории завода в запаянной стеклянной колбе хранилась ртуть. Перед отправкой ртути в производственный цех завода лаборанту было поручено, не вскрывая колбу, измерить массу ртути. Лаборант определил массу колбы со ртутью (измерение дало результат $m = 8,05$ кг) и внешний объем колбы $V = 1000$ см³. Используя справочные данные, лаборант правильно вычислил массу ртути. Плотность ртути $\rho_p = 13,6$ г/см³, плотность стекла $\rho_c = 2,5$ г/см³.

1) Чему равна масса колбы со ртутью, если её выразить в граммах?

2) Определите массу ртути в колбе, если ртуть заполняла внутреннее пространство колбы практически полностью.

3) Во сколько раз масса ртути больше массы пустой колбы?

Напишите полное решение этой задачи.

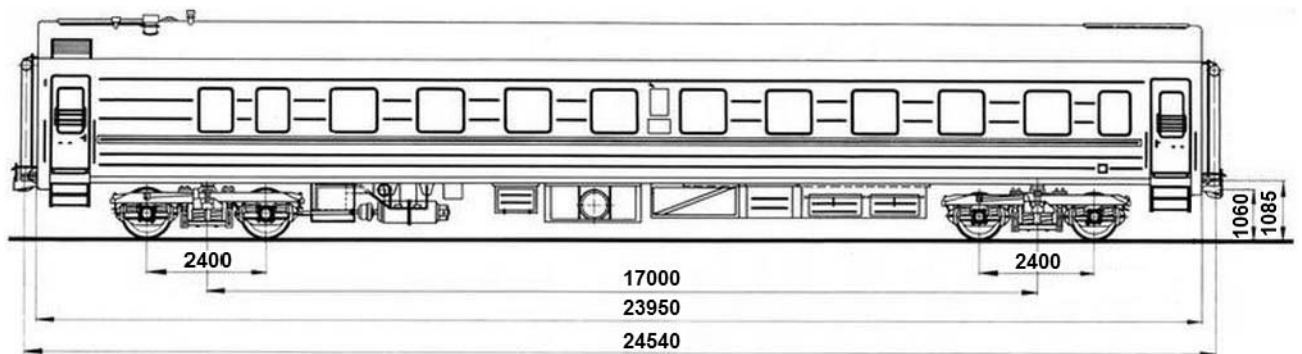
Решение	
<p>1) $m = 8,05$ кг = 8050 г.</p> <p>2) Внешний объем колбы равен сумме объёмов ртути и стекла $V = V_p + V_c$, масса колбы со ртутью $m = \rho_p \cdot V_p + \rho_c \cdot V_c$. Отсюда объем ртути $V_p = (m - \rho_c V) / (\rho_p - \rho_c) = 500$ см³, а масса ртути $m_p = \rho_p V_p = 6,8$ кг.</p> <p>3) Масса пустой стеклянной колбы $m_c = m - m_p = 1,25$ кг. Поэтому $m_p / m_c = 5,44$.</p> <p>Ответ: 1) $m = 8050$ г; 2) $m_p = 6,8$ кг; $m_p / m_c = 5,44$.</p> <p>Допускается другая формулировка рассуждений</p>	
Указания к оцениванию	Баллы
<p>Приведено полное решение, включающее следующие элементы:</p> <p>I) записаны положения теории, физические законы, закономерности, формулы и т.п. <u>применение которых необходимо</u> для решения задачи выбранным способом (в данном случае: <i>связь между массой, объёмом и плотностью</i>);</p> <p>II) проведены нужные рассуждения, верно осуществлена работа с графиками, схемами, таблицами (при необходимости), сделаны необходимые математические преобразования и расчёты, приводящие к правильному числовому ответу (допускается решение «по частям» с промежуточными вычислениями; часть промежуточных вычислений может быть проведена «в уме»; задача может решаться как в общем виде, так и путем проведения вычислений непосредственно с заданными в условии численными значениями);</p> <p>III) представлен правильный численный ответ на все три вопроса задачи с указанием единиц измерения искомой величины.</p>	3
Приведено полное верное решение (I, II) и дан правильный ответ (III) только для двух пунктов задачи	2
Приведено полное верное решение (I, II) и дан правильный ответ (III) только для одного пункта задачи	1
Все случаи решения, которые не соответствуют вышеуказанным критериям выставления оценок в 1, 2 или 3 балла.	0
<i>Максимальный балл</i>	3

11

Вдоль стоящего на станции пассажирского поезда идёт обходчик. Он резко ударяет молотком по оси каждого колеса и затем на мгновение прикладывает к ней руку. Пассажир Иван Иванович заметил, что вдоль всего состава обходчик проходит за 5 минут, делая при этом 48 ударов. Пользуясь чертежом вагона, оцените:

- 1) сколько вагонов в поезде?
- 2) с какой средней скоростью идёт обходчик?
- 3) чему равен минимальный интервал времени между слышимыми ударами?

Размеры на чертеже вагона приведены в миллиметрах. Напишите полное решение этой задачи.



Решение

Рассмотрим чертёж.

- 1) У вагона четыре колеса. Поэтому в поезде $48/4 = 12$ вагонов.
- 2) Длина вагона примерно равна 24,5 м. Вдоль всего состава обходчик проходит за 5 мин = 300 с. Значит, длина поезда примерно равна 294 м, а средняя скорость обходчика примерно равна $294 \text{ м} / 300 \text{ с} = 1 \text{ м/с}$.
- 3) Минимальное расстояние между осями двух соседних колёс равно 2,4 м. Поэтому минимальный интервал времени между слышимыми ударами равен $2,4 \text{ м} / 1 \text{ м/с} = 2,4 \text{ с}$.

Ответ: 12 вагонов; 1 м/с; 2,4 с.

Допускается другая формулировка рассуждений.

Указания к оцениванию

Баллы

Приведено полное решение, включающее следующие элементы:

3

I) записаны положения теории, физические законы, закономерности, формулы и т.п. применение которых необходимо для решения задачи выбранным способом (в данном случае: *связь между скоростью, временем движения и пройденным за это время путем*);

II) проведены нужные рассуждения, верно осуществлена работа с графиками, схемами, таблицами (при необходимости), сделаны необходимые математические преобразования и расчёты, приводящие к правильному числовому ответу (допускается решение «по частям» с промежуточными вычислениями; часть промежуточных вычислений может быть проведена «в уме»; задача может решаться как в общем виде, так и путем проведения вычислений непосредственно с заданными в условии численными значениями);

III) представлен правильный численный ответ на все три вопроса задачи с указанием единиц измерения искомой величины.

Код

Приведено полное верное решение (I, II) и дан правильный ответ (III) только для двух пунктов задачи	2
Приведено полное верное решение (I, II) и дан правильный ответ (III) только для одного пункта задачи	1
Все случаи решения, которые не соответствуют вышеуказанным критериям выставления оценок в 1, 2 или 3 балла.	0
<i>Максимальный балл</i>	3

Система оценивания выполнения всей работы

Максимальный первичный балл за выполнение работы – **18**.

Рекомендуемая таблица перевода баллов в отметки по пятибалльной шкале

Отметка по пятибалльной шкале	«2»	«3»	«4»	«5»
Первичные баллы	0–4	5–7	8–10	11–18

Получение более 15 баллов свидетельствует об освоении обучающимся программы 7-го класса на повышенном уровне.